

## VERIFICAÇÃO DE PERCEPÇÃO E APRECIÇÃO MUSICAL

## DITADO RÍTMICO-MELÓDICO




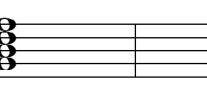
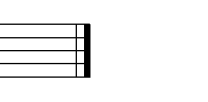
## QUESTÃO 1

Você ouvirá cinco intervalos melódicos, reproduzidos três vezes cada. Dada a primeira nota, complete e classifique cada intervalo (2<sup>a</sup>, 3<sup>a</sup>, 4<sup>a</sup>, 5<sup>a</sup>, 6<sup>a</sup>, 7<sup>a</sup>, 8<sup>a</sup>/maior, menor etc.), de acordo com a ordem em que foram apresentados.

	CLASSIFICAÇÃO
1º) 	6 <sup>a</sup> menor _____
2º) 	3 <sup>a</sup> Maior _____
3º) 	5 <sup>a</sup> Justa _____
4º) 	7 <sup>a</sup> menor _____
5º) 	4 <sup>a</sup> Aum. _____

**QUESTÃO 2**

Você ouvirá cinco acordes, reproduzidos três vezes cada. Dê a classificação de cada um deles de acordo com a ordem em que foram apresentados. (Exemplo: Perfeito Maior, Perfeito menor etc.).

1º acorde	2º acorde	3º acorde	4º acorde	5º acorde
				
5ª Aum.	Pm	PM	7ª da Dom.	5ª dim.

**QUESTÃO 3**

**Ditado melódico**

